



Q1. भारत में किस शिलाखोह से सर्वाधिक चित्र प्राप्त हुए हैं ?

From which rock cave of India most paintings are found ?

- (a). घघरिया / Ghaghria
- (b). भीमबेटका / Bhimbetka
- (c). लेखहिया / Lekhahia
- (d). आदमगढ़ / Adamgarh



Q2. मध्य प्रदेश में प्रागैतिहासिक शिलाचित्र कहाँ पाए जाते हैं ?

Where are the prehistoric rock paintings found in Madhya Pradesh?

- (a). बाघकीगुफाएँ / Bhagh caves
- (b). उदयगिरि / Udaigiri
- (c). सोनारगिरि / Sonargiri
- (d). भीमबेटका / Bhimbetka



Q3. गंगा घाटी में धान की खेती का प्राचीनतम प्रमाण कहाँ से मिला है ?

From where, the ancient most evidence of paddy cultivation in Ganga valley is found?

- (a). लहुरादेव / Lahuradev
- (b). सेनुवार / Senuwar
- (c). सोहगौरा / Sohgaura
- (d). कौशाम्बी / Kaushambi



Q4. भारतीय उपमहाद्वीप में धान की खेती के प्राचीनतम साक्ष्य प्राप्त होते हैं -

The ancient most evidence of paddy cultivation in Indian sub-Continent is found from

- (a). कश्मीरसे / Kashmir
- (b). उत्तरबिहारसे / NorthBihar
- (c). महाकोशल्से / Mahakoshala
- (d). विन्ध्यक्षेत्रसे / Vindhya region



Q5. निम्नलिखित में से किन स्थानों में मध्यपाषाण काल में पशुपालन के प्रमाण मिलते हैं ?

Which among the following sites provides evidence of domestication of animals in the Mesolithic period?

- (a). औदे / Odai
- (b). बोरी / Bori
- (c). बागौर / Bagor
- (d). लखनियाँ / Lakhnia



Q6. उत्खनित प्रमाणों के अनुसार पशुपालन का प्रारम्भ हुआ था-

As per excavation evidences cattle breeding started in -

- (a). निचले पूर्व पाषाण कालमें / Lower pre stone age
- (b). मध्य पूर्व पाषाण कालमें / Middle pre stone age
- (c). ऊपरी पूर्व पाषाण कालमें / Upper pre stone age
- (d). मध्य पाषाण कालमें / Mesolithic period



Q7. मध्य पाषाणिक प्रसंग में पशुपालन के प्रमाण जहाँ मिले, वह स्थान है ?

In reference to Mesolithic period, the place from where the evidence of animal husbandry is found?

- (a). लंघनाज / Langhanaj
- (b). बीरभानपुर / Birbhanpur
- (c). आदमगढ़ / Adamgarh
- (d). चोपानी मांडो / Chopani Mando



Q8. निम्नलिखित में से किस मध्य पाषाणिक स्थल से हड्डी के बने आभूषण प्राप्त हुए हैं ?

From which of the following site of middle stone age bone made ornaments are found?

- (a). बागौर / Bagor
- (b). बघोर II / Baghor II
- (c). बीरभानपुर / Birbhanpur
- (d). महदहा / Mahdaha



Q9. एक ही कब्र से तीन मानव कंकाल निकले हैं-

Three human Skeletons from the same grave is found from-

- (a). सरायनाहररायसे / Sarai Nahar Rai
- (b). दमदमसे / Damdama
- (c). महदहसे / Mahdaha
- (d). लंघनाजसे / Langhanaz



Q10. विन्ध्य क्षेत्र के किस शिलाश्रय से सर्वाधिक मानव कंकाल मिले हैं ?

From which rock formation of the Vindhya region the most human skeletons are found?

- (a). मोरहना पहाड़ / Morahna hill
- (b). घघरिया / Ghaghariya
- (c). बघही खोर / Baghahi Khor
- (d). लेखहिया / Lekhahiya



Q11. राख का टीला निम्नलिखित किस नवपाषाणिक स्थल से सम्बन्धित है ?  
Mound of ash is related to which Neolithic site?

- (a). बुदिहाल / Budhihal
- (b). संगनकल्लू / Sanganakallu
- (c). कोल्डिहवा / Koldihwa
- (d). ब्रह्मगिरी / Brahmagiri



Q12. खाद्यान्नों की कृषि सर्वप्रथम प्रारम्भ हुई थी-

The cultivation of foodgrains started in-

- (a). नव-पाषाणकालमें / New stone age
- (b). मध्य-पाषाणकालमें / Mesolithic age
- (c). पुरा-पाषाणकालमें / Paleolithic age
- (d). आद्य-ऐतिहासिककालमें / Proto-Historic age



Q13. भारत में पशुपालन एवं कृषि के प्राचीनतम साक्ष्य प्राप्त हुए हैं।

The earliest evidence of animal domestication and agriculture in India has come from -

- (a). अंजिस्से / Anjira
- (b). दम्ब सदात / Damb Sadat से
- (c). किलेगुलमोहम्मदसे / Kile Gul Muhammd
- (d). मेहरगढ़ / Mehargarh



Q14. नवपाषाण कालीन गर्त-निवासों के अवशेष कहाँ से मिले थे ?

1. बुर्जहोम 2. गुफकराल

3. कुचई 4. महगड़ा

नीचे के कूट से सही उत्तर का चयन कीजिए :

From where remains of trough residence, of Neolithic age, are found?

1. Burzahom 2. Gufkaral

3. Kuchai 4. Mahgara


Select the correct answer from the codes given below:

(a). 1 एवं 4 / 1 and 4

(b). 2 एवं 3 / 2 and 3

(c). 3 एवं 4 / 3 and 4

(d). 1 एवं 2 / 1 and 2



Q15. मानव शवाधानों में कुत्ते दफनाये गये थे -

Dogs were cremated in human burials at-

- (a). गुफकरालमें / Gufkral
- (b). बुर्जहोममें / Burzahom
- (c). मार्तण्डमें / Martand
- (d). मेहरगढ़में / Mehargarh



Q16. भारत में व्यवस्थित कृषि का प्राचीनतम प्रमाण कहाँ से प्राप्त होता है ?

The most ancient evidence of Systematic farming in India is found from which place?

- (a). मेहरगढ़ / Mehargarh
- (b). कालीबंगा / Kalibangan
- (c). लोथल / Lothal
- (d). कोटदीजी / Kotdiji



Q17. उस स्थल का नाम बताइये जहाँ से प्राचीनतम स्थायी जीवन के प्रमाण मिले हैं ?

Name the site from where the evidence of ancient most permanent settlement of life is found?

- (a). धौलावीरा / Dholavira
- (b). किले - गुल - मोहम्मद / Quila-e-Gul-Muhammad
- (c). कालीबंगा / Kalibangan
- (d). मेहरगढ़ / Mehargarh



Q18. मानव द्वारा सर्वप्रथम प्रयुक्त अनाज था—

The grain used by human beings at first was—

- (a). गेहूँ / Wheat
- (b). चावल / Rice
- (c). जौ / Barley
- (d). बाजरा / Millet



Q19. नवपाषाण युग में भारतीय उपमहाद्वीप के उत्तर-पश्चिमी क्षेत्र में निम्नलिखित में से किस स्थान पर कृषि के अभ्युदय के प्रारंभिक प्रमाण प्राप्त हुए हैं ?

At which of the following places in the northwestern region of the Indian subcontinent in the Neolithic Age has the earliest evidence of the emergence of agriculture been found?

- (a). मुंडीगाक / Mundigak
- (b). मेहरगढ़ / Mehargarh
- (c). दम्ब सादत / Damba Sadat
- (d). बालाकोट / Balakot



Q20. ताम्र पाषाणिक काल में महाराष्ट्र के लोग मृतकों के शरीर को फर्श के नीचे किस तरह रखकर दफनाते थे ?  
How the people of Maharashtra were cremating the dead bodies under the floor, in chalcolithic Era?

- (a). उत्तर से दक्षिण की ओर / North to south
- (b). पूर्व से पश्चिम की ओर / East to west
- (c). दक्षिण से उत्तर की ओर / South to west
- (d). पश्चिम से पूर्व की ओर / West to East



Q21. निम्नलिखित में से किसको चालकोलिथिक युग भी कहा जाता है ?

Which of the following is also called Chalcolithic age?

- (a). पुरा पाषाण युग / Old stone age
- (b). नव पाषाण युग / Neolithic age
- (c). ताम्र पाषाण युग / Chalcolithic age
- (d). लौह युग / Iron age



Q22. सही कालक्रम में व्यवस्थित कीजिए-

1. पटपरा जमाव
2. खेतौन्ही जमाव
3. बाघोर जमाव
4. सिहावल जमाव कूट :

Arrange in correct chronological order-

1. Patpara coagulation
2. Khetonhi coagulation
3. Baghora coagulation
4. Sihaval coagulation Codes

- (a). 1, 4, 2, 3 / 1, 4, 2, 3
- (b). 4, 1, 3, 2 / 4, 1, 3, 2
- (c). 1, 2, 3, 4 / 1, 2, 3, 4
- (d). 4, 3, 2, 1 / 4, 3, 2, 1



Q23. वृहद पाषाण स्मारकों की पहचान की गई है-

Large stone monuments have been identified as-

- (a). संन्यासी गुफाओं के रूपमें / Sant caves
- (b). मृतक को दफनाने के स्थानों के रूप में / Place for the burial of the dead
- (c). मंदिरकेरूपमें / Temple
- (d). उपर्युक्त में से कोई नहीं / None of the above



Q24. निम्न में से किस एक पुरा स्थल से पाषाण संस्कृति से लेकर हड़प्पा सभ्यता तक के सांस्कृतिक अवशेष प्राप्त हुए हैं ?

From which one of the following archaeological site, The Cultural remains from Stone age culture to Harappan civilization are found?

- (a). आम्री / Amari
- (b). मेहरगढ़ / Mehargarh
- (c). कोटदीजी / Kotdiji
- (d). कालीबंगा / Kalibangan



Q25. नवदाटोली किस राज्य में अवस्थित है ?  
In which state Navdatoli is located?

- (a). गुजरात / Gujarat
- (b). महाराष्ट्र / Maharashtra
- (c). छत्तीसगढ़ / Chattisgarh
- (d). मध्य प्रदेश / Madhya Pradesh



Q26. गैरिक मृद्गाण्ड पात्र (ओ.सी.पी.) का नामकरण हुआ था-  
Garric Pottery (OCP) was named in-

- (a). हास्तनापुरमें / Hastinapur
- (b). अहिच्छत्रमें / Ahichchhatra
- (c). नोहमें / Noha
- (d). लाल किला / Red Fort  
में



Q27. सूची-I को सूची-II सूमेलित कीजिये तथा सूचियों के नीचे दिये गये कूट का प्रयोग करते हुये सही उत्तर चुनिये-

सूची-I

सूची-II

A. हड़प्पा

१.गोदावरी

B.हस्तिनापुर

२.रावी

C.नागार्जुनकोण्डा

३.गंगा

D.पैठन

४.कृष्णा

कूट :

Match the list I with list II and select the correct answer from the codes given below the lists:

List-I

List-II

A.Harappa

1.Godawari

B.Hastinapur

2.Ravi

C.Nagarjunakonda

3.Ganga

D.Paithan

4.Krishna

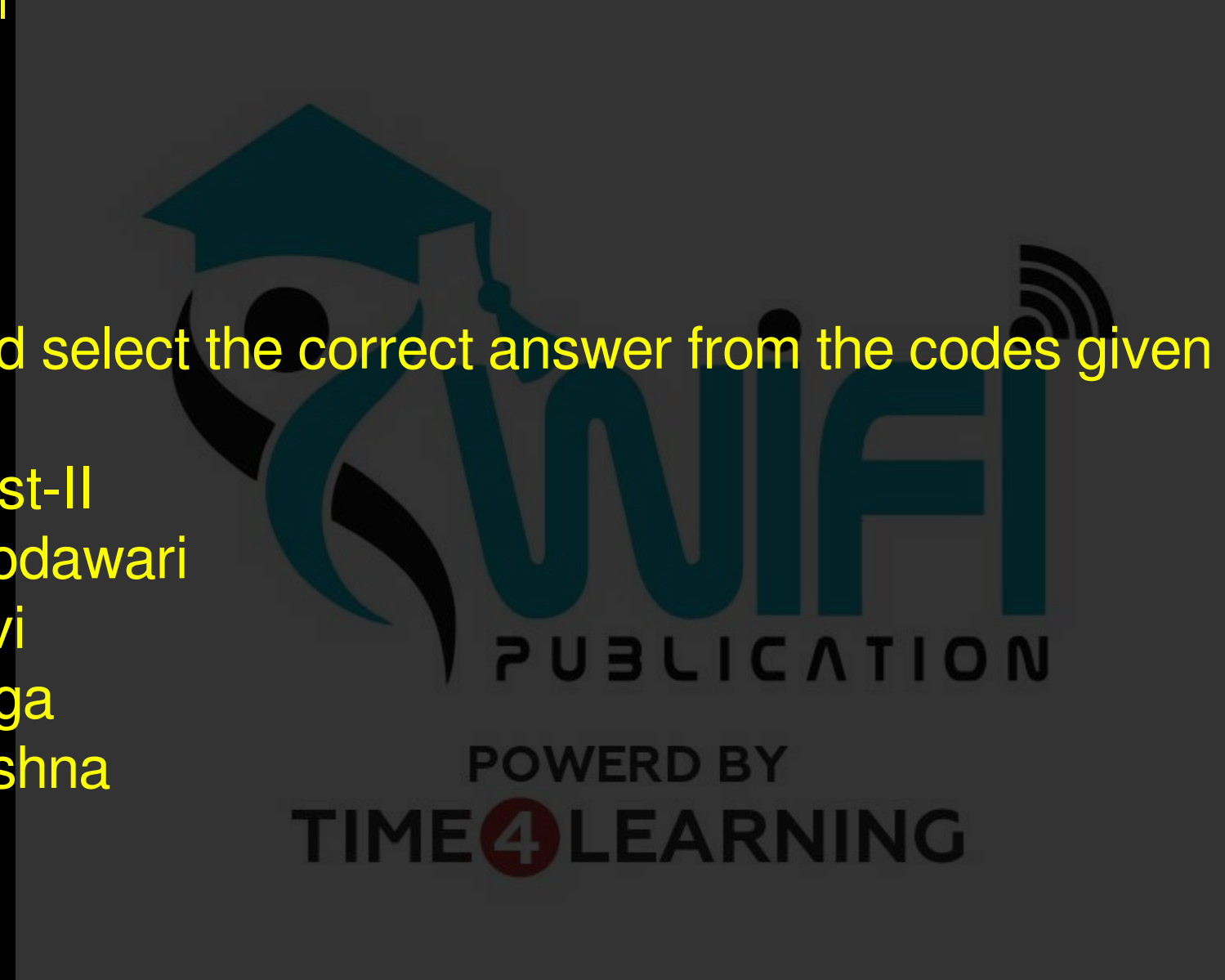
Code:

(a). 1 2 3 4 / 1 2 3 4

(b). 2 3 4 1 / 2 3 4 1

(c). 4 3 2 1 / 4 3 2 1

(d). 3 4 1 2 / 3 4 1 2



Q28. निम्नलिखित दर्शनीय स्थानों को सुमेलित कीजिए -

- |              |  |
|--------------|--|
| A. उदयगिरि   | 1. प्रागैतिहासिक शिलाचित्र                         |
| B. भीमबेटका  | 2. शिलाओं को उत्खनित कर गड़ी मूर्तियाँ, स्तम्भ आदि |
| C. बान्धवगढ़ | 3. रामकथा से जुड़ा तीर्थ स्थान                     |
| D. चित्रकूट  | 4. राष्ट्रीय उद्यान                                |

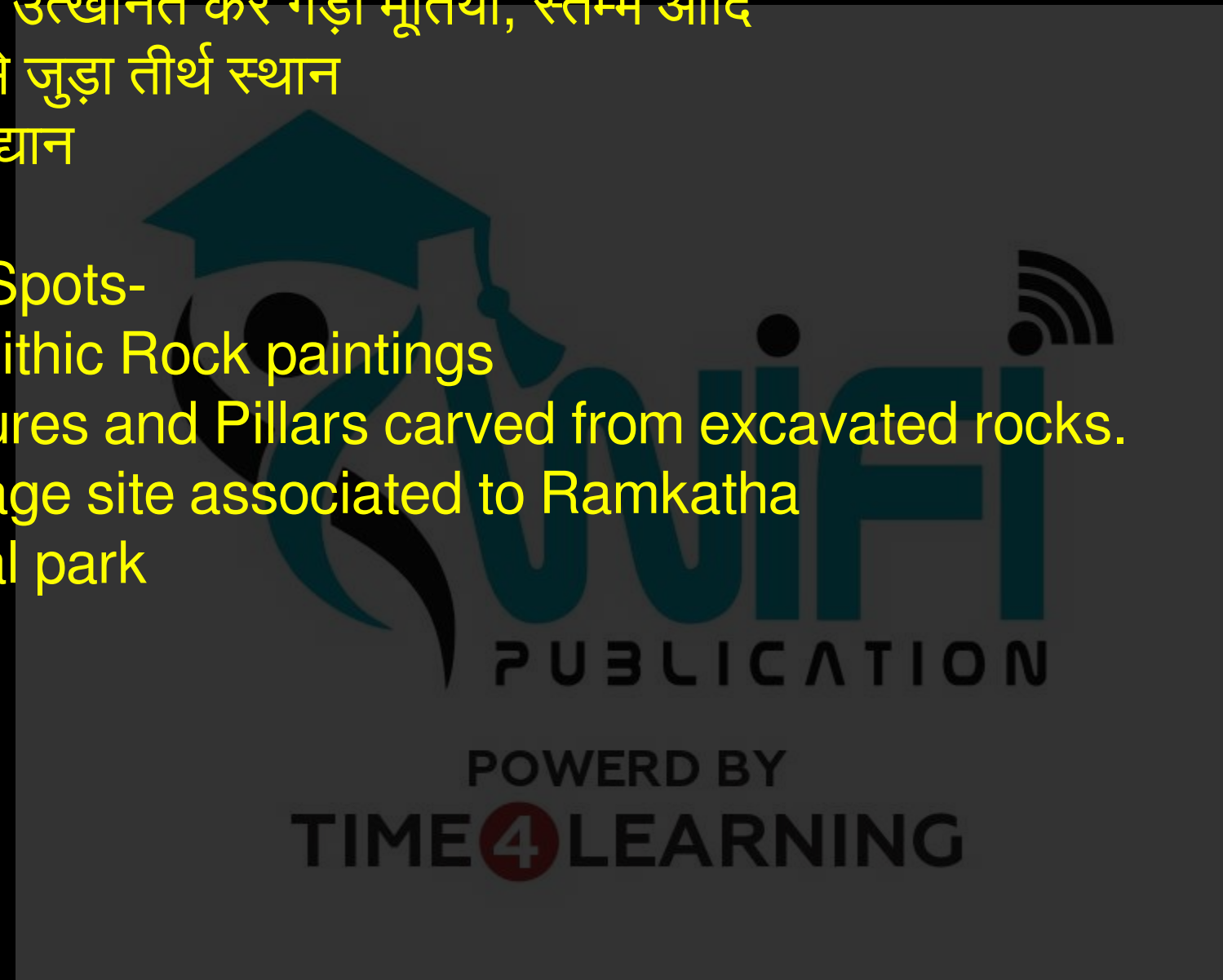
कूट :

Match the following scenic Spots-

- |                |  |
|----------------|--|
| A. Udaigiri    | 1. Paleolithic Rock paintings                          |
| B. Bhimbetka   | 2. Sculptures and Pillars carved from excavated rocks. |
| C. Bandhavgarh | 3. Pilgrimage site associated to Ramkatha              |
| D. Chitrakoot  | 4. National park                                       |

Codes:

- (a). 3 4 2 1 / 3 4 2 1  
(b). 1 3 2 4 / 1 3 2 4  
(c). 4 2 1 3 / 4 2 1 3  
(d). 2 1 4 3 / 2 1 4 3



Q29. कोपेनहेगन संग्रहालय की सामग्री से पाषाण, कांस्य और लौह युग का त्रियुगीय विभाजन किया था  
From the contents of the Copenhagen Museum a triangular division of the Stone, Bronze and Iron Age was done by-

- (a). थॉमसन्ने / Thompson
- (b). लुब्बकने / Lubbak
- (c). टेलसे / Taylor
- (d). चाइल्डसे / Child



Q30. नवदाटोली का उत्खनन किसने किया था ?

Who excavated navdatoli?

- (a). के.डी.बाजपेयीने / K.D. Vajpai
- (b). वी.एस.वाकणकरने / V.S.Wakankar
- (c). एच.डी.सांकलियाने / H.D. Sankalia
- (d). मार्टिमरव्हीलरने / Mortimer Wheeler

